



COMUNE DI COMO

Concorso pubblico, per soli esami, per la copertura di n. 13 posti nel profilo di
"Istruttore amministrativo" - Categoria C - a tempo pieno e indeterminato



PROVA 02

NON STRAPPARE

L'INVOLUCRO DI PLASTICA PRIMA CHE VENGA
DATO L'APPOSITO SEGNALE

Incollare sulla scheda delle risposte
il codice a barre sottostante:

Codice questionario



Prodotto con cellulosa certificata
FSC

AZIENDA CON SISTEMA
DI GESTIONE QUALITÀ
CERTIFICATO DA DNV
= ISO 9001 =

B00006

- 1 **L'"embargo" è:**
- A** una misura di isolamento politico e commerciale di un Paese a opera di altri Paesi
 - B** la chiusura delle frontiere agli extracomunitari
 - C** una risoluzione per la moratoria nucleare votata dall'ONU
 - D** il blocco del rilascio dei passaporti da parte di un determinato Paese

B00007

- 2 **In base alla Costituzione italiana, per quale, fra i seguenti gruppi di leggi, NON è ammesso il referendum?**
- A** Per le leggi tributarie e di bilancio, di amnistia e di indulto, di autorizzazione a ratificare trattati internazionali
 - B** Per le leggi elettorali e di organizzazione degli organi costituzionali dello Stato
 - C** Per le leggi sull'assetto organizzativo della P.A. e delle forze armate
 - D** Per le leggi in materia penale

B00008

- 3 **In seno al Consiglio dell'Unione Europea, l'ECOFIN è:**
- A** l'insieme dei ministri dell'Economia e delle Finanze degli Stati membri
 - B** costituito a turno dal Governo dei vari Stati membri per una durata di sei mesi
 - C** l'insieme dei ministri della Difesa degli Stati membri dell'Unione Europea
 - D** una conferenza intergovernativa tesa a consolidare le politiche della sicurezza

B00009

- 4 **In base alla Costituzione italiana, chi presiede il Consiglio superiore della Magistratura?**
- A** Il Presidente della Repubblica
 - B** Il Ministro della Giustizia
 - C** Uno dei suoi membri eletto tra i Magistrati
 - D** Il Presidente della Corte di Cassazione

B00014

- 5 **Tre marinai sbucciano un sacco di patate rispettivamente in 3, 4 e 6 ore. Quante ore impiegano a sbucciare insieme le patate di 69 sacchi?**
- A** 92
 - B** 12
 - C** 13
 - D** 184

B00015

- 6 **Il prezzo di un oggetto messo in vendita su Internet è di 680,00 €. Sapendo che le commissioni da corrispondere al sito sono pari al 2%, il ricavo netto sarà di:**
- A** 666,4 €
 - B** 678 €
 - C** 13,6 €
 - D** 693,6 €

B00016

- 7 **Nel lancio di un dado che probabilità c'è che esca un numero divisibile per tre?**
- A** 1/3
 - B** 5/6
 - C** 1/2
 - D** 2/3

- 8 Il piccolo Paolo sta giocando con 174 tessere quadrate di legno colorato, tutte delle stesse dimensioni. Costruisce con le tessere, affiancandole, il più grande quadrato possibile. Considerando il lato di ogni tessera come unità di misura u, quanto vale il perimetro del quadrato ottenuto?
- A 52 u
 - B 169 u
 - C 58 u
 - D 48 u

- 9 "Tutti gli oggetti di vetro sono riciclabili. Questo bicchiere è di vetro". In base alle precedenti informazioni, quale delle seguenti affermazioni è certamente vera?
- A Questo bicchiere è riciclabile
 - B Tutti i bicchieri sono riciclabili
 - C Nessuna delle altre alternative è corretta
 - D I bicchieri di plastica non sono certamente riciclabili

- 10 "Tutti i guardiani notturni sono nottambuli; Tiziano è un nottambulo; tutti i nottambuli sono fumatori". In base alle precedenti affermazioni, quale delle seguenti NON è necessariamente vera?
- A Tiziano è un guardiano notturno
 - B Tutti i guardiani notturni sono fumatori
 - C Tiziano è un fumatore
 - D Chi non è fumatore non è un nottambulo

- 11 "Le recenti osservazioni hanno escluso la possibilità che il pianeta non sia stato colpito dall'asteroide". Qual è il corretto significato della precedente affermazione?
- A Il pianeta è stato colpito dall'asteroide
 - B Non si può dire che il pianeta sia stato colpito dall'asteroide
 - C Si può pensare che il pianeta non sia stato colpito dall'asteroide
 - D Il pianeta non è stato colpito dall'asteroide

- 12 Quali, tra i termini proposti, completano correttamente la seguente proporzione verbale? Credito : fiducia = X : Y
- A X = probità; Y = rettitudine
 - B X = recinto; Y = prato
 - C X = premio; Y = vincitore
 - D X = denaro; Y = credito

- 13 Ai sensi dell'art. 40 del d.P.R. 445/2000, le certificazioni rilasciate dalla Pubblica Amministrazione in ordine a stati, qualità personali e fatti sono valide e utilizzabili:
- A solo nei rapporti tra privati
 - B solo nei rapporti con gli organi della Pubblica Amministrazione
 - C solo nei rapporti con i gestori di pubblici servizi
 - D nei rapporti tra privati e con gli organi della Pubblica Amministrazione

- 14 Secondo la legge 7 agosto 1990 n. 241, quando può essere escluso il diritto di accesso ai documenti amministrativi?
- A** Nei procedimenti tributari
 - B** Nei procedimenti anagrafici di attribuzione della residenza
 - C** Quando la conferenza dei servizi, indetta dall'amministrazione precedente, abbia constatato che l'interesse pubblico perseguito dal provvedimento amministrativo finale sia preminente rispetto agli interessi privati eventualmente coinvolti
 - D** Mai, in alcun caso

- 15 Il pubblico impiegato che commette il reato di false attestazioni o certificazioni di cui all'art. 55-quinquies del d.lgs. 165/2001, come modificato dal d.lgs. 75/2017, è obbligato a risarcire unicamente il danno di immagine all'amministrazione?
- A** No, deve risarcire anche il danno patrimoniale
 - B** È facoltà dell'amministrazione domandare alternativamente il risarcimento del danno patrimoniale o di quello d'immagine; resta ferma in ogni caso la responsabilità penale e disciplinare
 - C** Sì, unicamente
 - D** Non risarcisce alcun genere di danno, ma resta soggetto alla responsabilità penale e disciplinare

- 16 Ai sensi dell'art. 317 del Codice Penale, "il pubblico ufficiale o l'incaricato di un pubblico servizio che, abusando della sua qualità o dei suoi poteri, costringe taluno a dare o a promettere indebitamente, a lui o a un terzo, denaro o altra utilità" commette il reato di:
- A** concussione
 - B** malversazione ai danni dello Stato
 - C** corruzione per l'esercizio della funzione
 - D** non commette alcun reato

- 17 Ai sensi dell'art. 46 del Testo unico sull'ordinamento degli enti locali (d.lgs. 267/2000), il termine entro il quale il Sindaco deve presentare al Consiglio comunale le linee programmatiche relative al proprio mandato è fissato:
- A** dallo Statuto comunale
 - B** dalla legge regionale
 - C** dal Testo unico stesso
 - D** dalla legge ordinaria

- 18 Se le lancette di un orologio segnano le 4.45 di lunedì, tra 47 ore e 30 minuti saranno:
- A** le 4.15 di mercoledì
 - B** le 0.15 di martedì
 - C** le 16.15 di giovedì
 - D** le 4.15 di lunedì

- 19 Rispondere al seguente quesito facendo riferimento al BRANO AM 81
Secondo il brano, quale tra le seguenti è un'attività diventata ormai di prassi tra i politici?
- A** Etichettare come fake news notizie, opinioni, informazioni che sostengano gli avversari
 - B** Catalogare come fake news qualsiasi notizia veicolata da Facebook e Alphabet
 - C** Appoggiarsi al "Fake news award" per veicolare fake news
 - D** Distinguere tra notizie vere e notizie false utilizzando lo studio del Mit

- 20 Rispondere al seguente quesito facendo riferimento al BRANO AM 81 B00002
Secondo il brano, quando l'attenzione mondiale si è concentrata sulle fake news?
A Alla fine del 2016, quando è stato eletto Donald Trump
B Tra il 2006 e il 2017, ovvero nel periodo indagato dallo studio del Mit
C Quando il Mit, tra il 2016 e il 2017, ha pubblicato il proprio studio sulle notizie false
D Quando Facebook e Alphabet hanno deciso di mettere in guardia i propri utenti invitandoli a distinguere tra notizie vere e false sui social network

- 21 Rispondere al seguente quesito facendo riferimento al BRANO AM 81 B00003
Secondo il brano, com'è avvenuta la desemantizzazione della definizione "fake news"?
A Attribuendo tale definizione a informazioni che non hanno nulla a che vedere con le notizie false
B Utilizzando bolle di filtraggio e le camere dell'eco
C Dopo lo studio del Mit, che ha dimostrato come le fake news non esistano
D A causa di Facebook e Alphabet, perché hanno negato l'esistenza delle fake news

- 22 Rispondere al seguente quesito facendo riferimento al BRANO AM 81 B00004
Secondo il brano, lo studio del Mit sostiene che le notizie false hanno maggiore e più rapida diffusione perché:
A sono gli esseri umani ad aumentarne la diffusione
B sono gli algoritmi di Facebook ad aumentarne la diffusione
C sono gli algoritmi di Alphabet ad aumentarne la diffusione
D sono state desemantizzate

- 23 Rispondere al seguente quesito facendo riferimento al BRANO AM 81 B00005
Secondo il brano, perché è pericoloso non considerare importante il tema della verità delle notizie?
A Perché le decisioni delle persone derivano da ciò che sanno e sentono
B Perché altrimenti il termine "fake news" viene desemantizzato
C Perché altrimenti Facebook e Alphabet deterranno un potere assoluto sulla diffusione delle notizie
D Perché altrimenti le notizie veicolate dai politici rischiano di sembrare vere

DIAGRAMMA RY 00

Individuare il diagramma che soddisfa la relazione insiemistica esistente tra i termini dati.



DIAGRAMMA 1



DIAGRAMMA 2



DIAGRAMMA 3



DIAGRAMMA 4



DIAGRAMMA 5



DIAGRAMMA 6

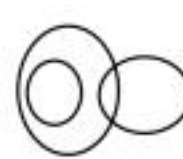



DIAGRAMMA 7

- 24 Rispondere al seguente quesito facendo riferimento al DIAGRAMMA RY 00 B00027
Persone ordinate, Operai, Amanti della lettura
A Diagramma 5
B Diagramma 1
C Diagramma 6
D Diagramma 2

FIGURA SS 09



25 Rispondere al seguente quesito facendo riferimento alla FIGURA SS 09
Individuare la figura da scartare.

B00012

- A** Figura 4
- B** Figura 1
- C** Figura 3
- D** Figura 2

FIGURA ST 69

Un'asse graduata di legno è appoggiata nel suo punto medio e su di essa è sistemato un gettone.



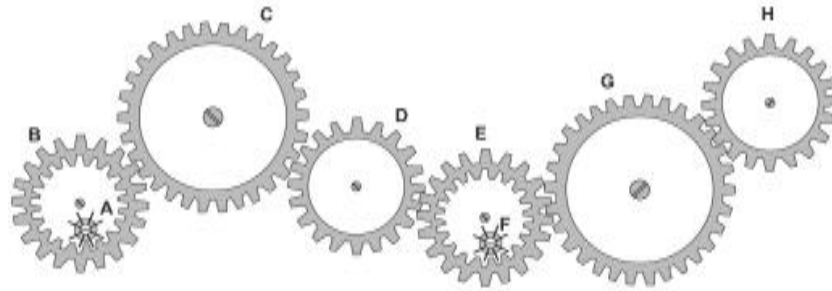
26 Rispondere al seguente quesito facendo riferimento alla FIGURA ST 69
Per equilibrare il gettone presente sulla leva rappresentata in figura è necessario porre:

B00028

- A** 6 gettoni in posizione 1
- B** 5 gettoni in posizione 1
- C** 1 gettone in posizione 5
- D** 6 gettoni in posizione 2

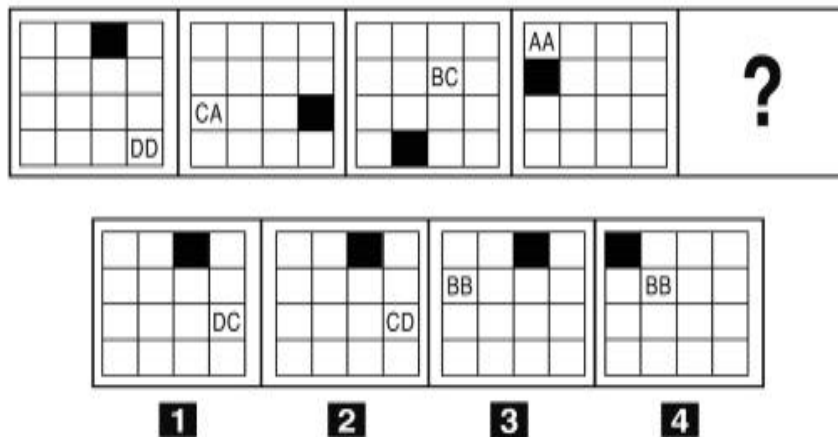
FIGURA ST 86

Nel sistema raffigurato, le ruote dentate sono libere di ruotare attorno a un perno fisso.



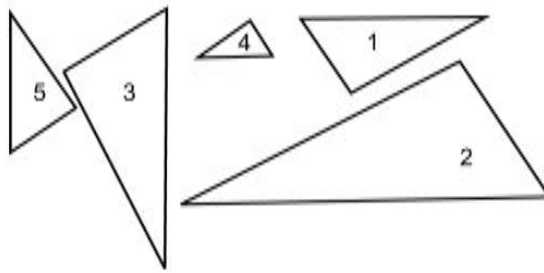
- 27 Rispondere al seguente quesito facendo riferimento alla FIGURA ST 86 B00029
 Se la ruota dentata B gira in senso orario, in quale senso gira il piccolo ingranaggio F?
- A** Nello stesso senso della ruota dentata C
 - B** In senso inverso rispetto alla ruota dentata C
 - C** Il sistema di ingranaggi non può funzionare
 - D** In senso orario

FIGURA SV 23



- 28 Rispondere al seguente quesito facendo riferimento alla FIGURA SV 23 B00010
 Individuare la figura che completa correttamente la serie.
- A** Figura 2
 - B** Figura 3
 - C** Figura 1
 - D** Figura 4

FIGURA SY 68

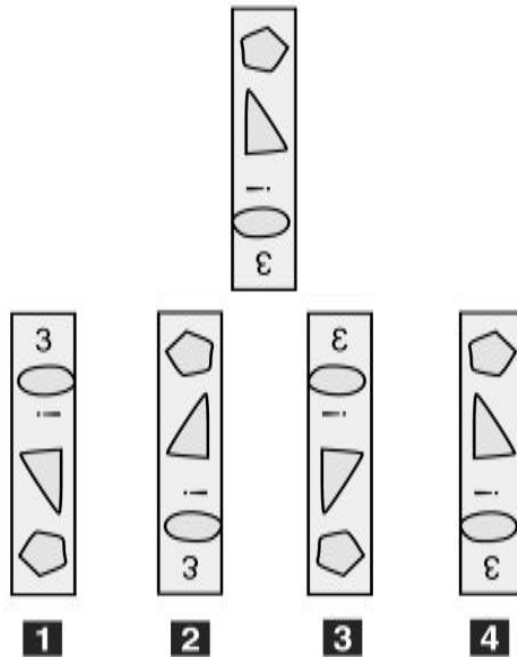


29 Rispondere al seguente quesito facendo riferimento alla FIGURA SY 68
 Mettere in ordine crescente le figure proposte.

B00013

- A** 4-5-1-3-2
- B** 4-1-5-3-2
- C** 5-1-4-2-3
- D** 2-3-1-5-4

FIGURA TZ 15



30 Rispondere al seguente quesito facendo riferimento alla FIGURA TZ 15
 Come apparirebbe l'immagine presentata, riflessa in uno specchio d'acqua?

B00011

- A** Come in figura 3
- B** Come in figura 1
- C** Come in figura 2
- D** Come in figura 4

